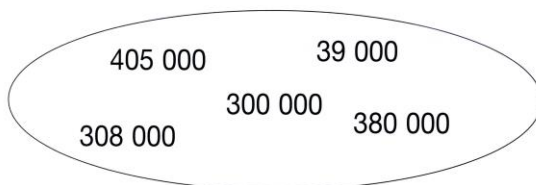


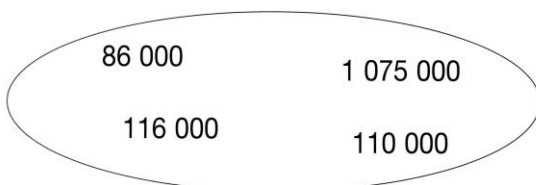
MATHEMATIQUE NUMERATION : les grands nombres

Observe les exemples ci-dessous et identifie ce que l'on attend de toi. Complète les exercices proposés.



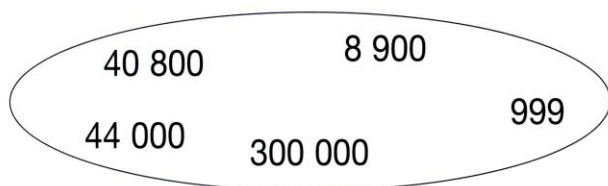
ordre croissant

$39\ 000 < 300\ 000 < 308\ 000 < 380\ 000 < 405\ 000$

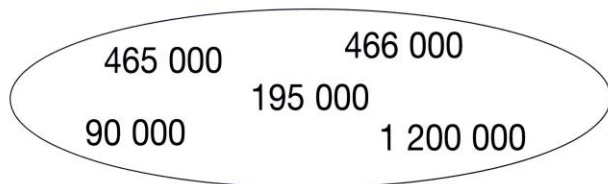


ordre décroissant

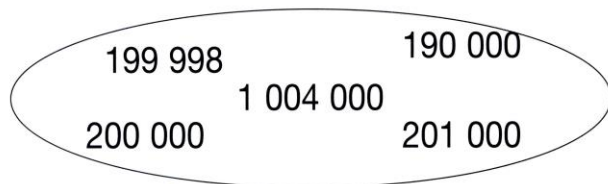
$1\ 075\ 000 > 116\ 000 > 110\ 000 > 86\ 000$



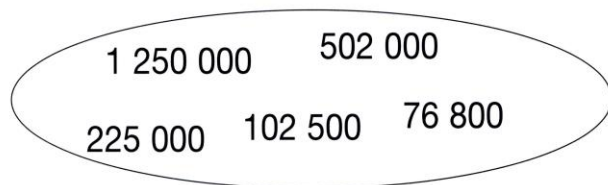
ordre décroissant



ordre croissant



ordre croissant



ordre décroissant

.....

.....

.....

.....